


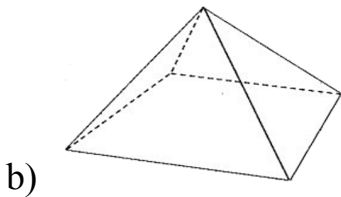
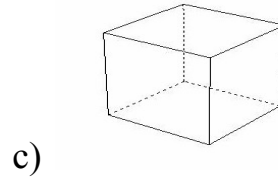
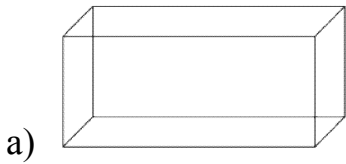
Class: Four

Subject- Mathematics

1. Write the mathematical name for each of the following solid objects.



2. Write the number of faces, edges and vertices of the following solids.



विषय - नेपाली

स्रोत :

किताब : मेरो नेपाली - ४

पृष्ठ नं : १

पाठ : गाउँछ गीत नेपाली

प्रश्न : पाठ १ मा दिइएको कविता पढ ।

गाउँछ गीत नेपाली, ज्योतिको पङ्ख उचाली
जय, जय, जय हे ! नेपाल, सुन्दर शान्त विशाल ।
गण्डकी, कोसी, कर्णाली, मेची र महाकाली
लेक र बँसी ब्युँझाउँछन् लहर लाखौँ उचाली
हिमालचुली बोलाउँछ पहिलो झुल्का निकाली
सगरमाथा शिखरमा पुग्दछ पहिले नेपाली ।
सीताले सारा भिजाइन् दक्षिण लङ्का, भारत
भृकुटी तारा उदाइन् उत्तर चीन, तिब्बत
बुद्धले यहीं पाएथे ज्ञानको पहिलो मुहान
शिवले यहीं ल्याएथे सृष्टिको पहिलो बिहान ।
पश्चिम किल्ला काँगडा, पूर्वमा टिस्टा पुगेथ्यौँ
कुन शक्तिको सामुमा कहिले हामी झुकेथ्यौँ
हामीले हिमाल उठायौँ एसियाको माझमा
सभ्यता बास बसेथ्यो आएर यहीं साँझमा ।
यै नेपाली धुलामा दिलको फूल रोपेर
यै पहाडी शिलामा प्रीतिको गीत खोपेर
बाँचौँला हामी नेपालमा चन्द्र र सूर्य ध्वजा ली
नाचौँला हामी हिमालमा ज्योतिको पङ्ख उचाली ।

- माधवप्रसाद घिमिरे



Subject - English

Circle the nouns in the following sentences and write them in the plural form.

1. I had an apple yesterday.

Plural Form: _____

2. Jane watched a movie last weekend.

Plural Form: _____

3. Karen broke a plate while she washed dishes.

Plural Form: _____

4. Jordan caught a frog in the backyard.

Plural Form: _____

5. Jessica ate a candy bar on the way to school.

Plural Form: _____

The End.